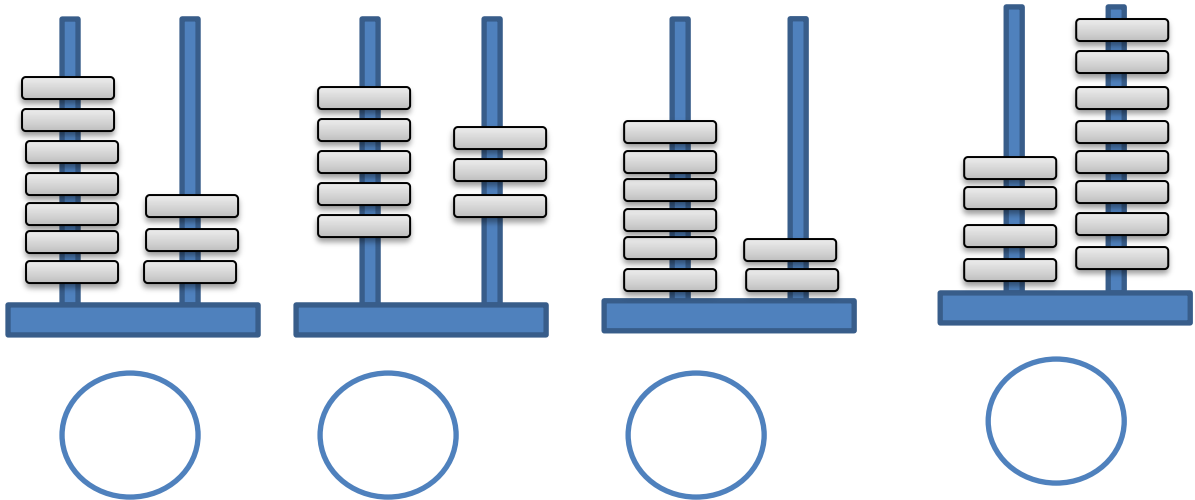


Επαναληπτικές ασκήσεις για τα κεφάλαια 1-8

Όνομα:.....


1. Ποιος αριθμός είναι;



Βάζω τους παραπάνω αριθμούς σε σειρά ξεκινώντας από τον μεγαλύτερο.

.....>.....>.....>.....>

2. Πρόβλημα: η γιαγιά έχει 16 καραμέλες και τις μοιράζει εξίσου στα δύο εγγονάκια της. Πόσες καραμέλες θα πάρει το καθένα;



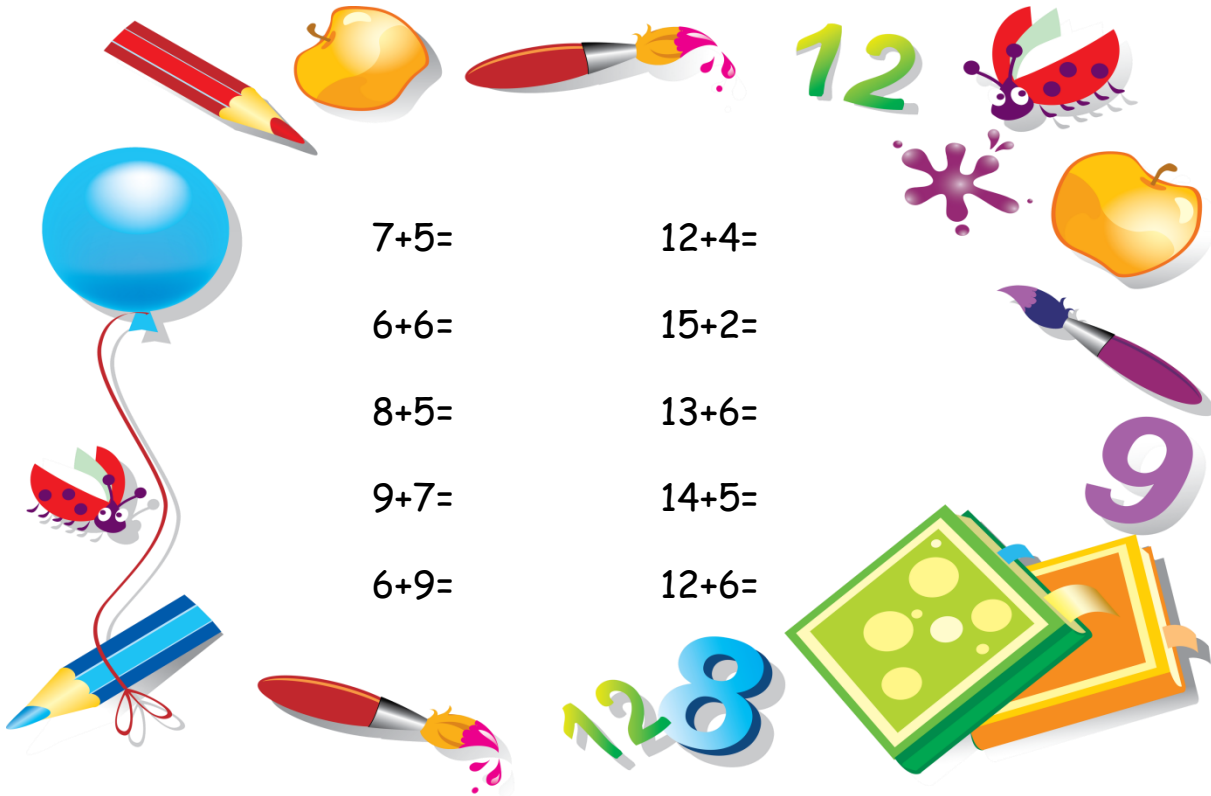
ΛΥΣΗ

ΖΩΓΡΑΦΙΣΩ

Απάντηση: _____

Επαναληπτικές ασκήσεις για τα κεφάλαια 1-8

3. Κάνε τις παρακάτω πράξεις.



7+5= 12+4=

6+6= 15+2=

8+5= 13+6=

9+7= 14+5=

6+9= 12+6=

4. Γράψε το μισό των αριθμών.

το μισό του 10 είναι⇒
το μισό του 8 είναι⇒
το μισό του 2 είναι⇒
το μισό του 6 είναι⇒
το μισό του 4 είναι⇒
το μισό του 40 είναι⇒
το μισό του 60 είναι⇒
το μισό του 100 είναι⇒

Δες το...αλλιώς

