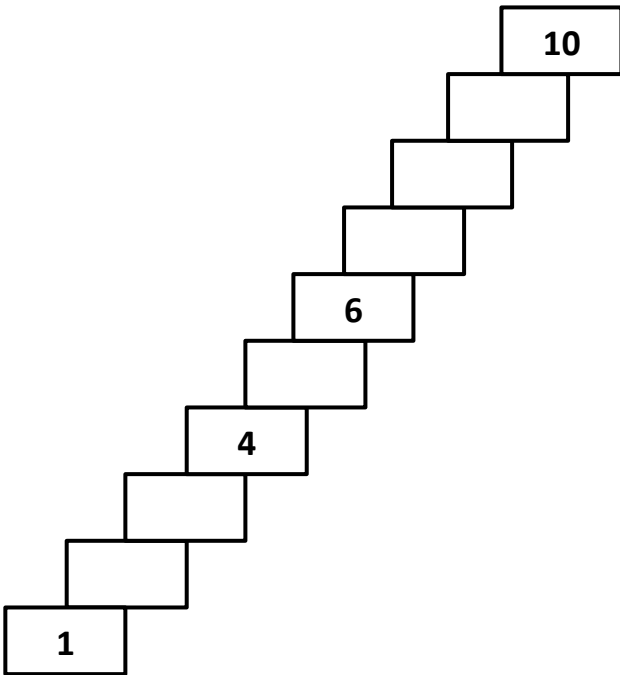


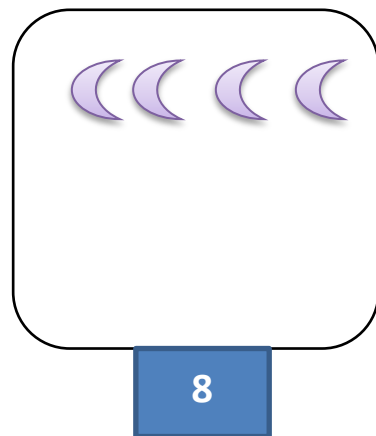

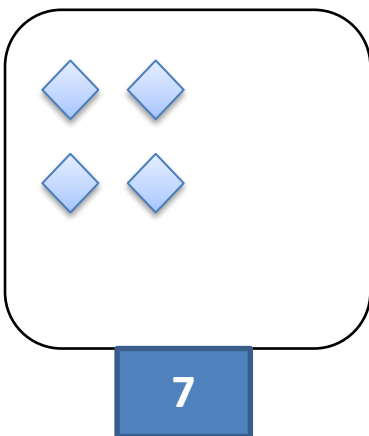
Επαναληπτικές ασκήσεις για το 2^ο κεφάλαιο

Όνομα:.....

1. Γράψε τους αριθμούς που λείπουν.

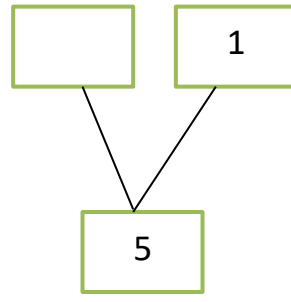
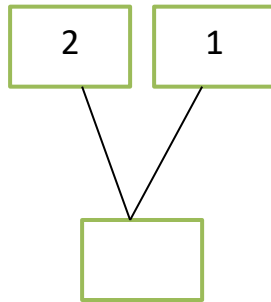
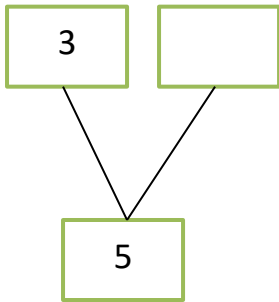


2. Συμπληρώνω ή διαγράφω όσα αντικείμενα πρέπει για να γίνουν όσα λέει ο αριθμός.



Επαναληπτικές ασκήσεις για το 2^ο κεφάλαιο

3. Συμπληρώνω τους αριθμούς που λείπουν.



4. Υπολογίζω τα παρακάτω αθροίσματα.

$$\begin{array}{r} 2 \\ + 4 \\ \hline \end{array}$$

$$\begin{array}{r} 2 \\ + 2 \\ \hline \end{array}$$

$$\begin{array}{r} 3 \\ + 1 \\ \hline \end{array}$$

$$3+1+1=$$

$$5+3=$$

$$4+2=$$