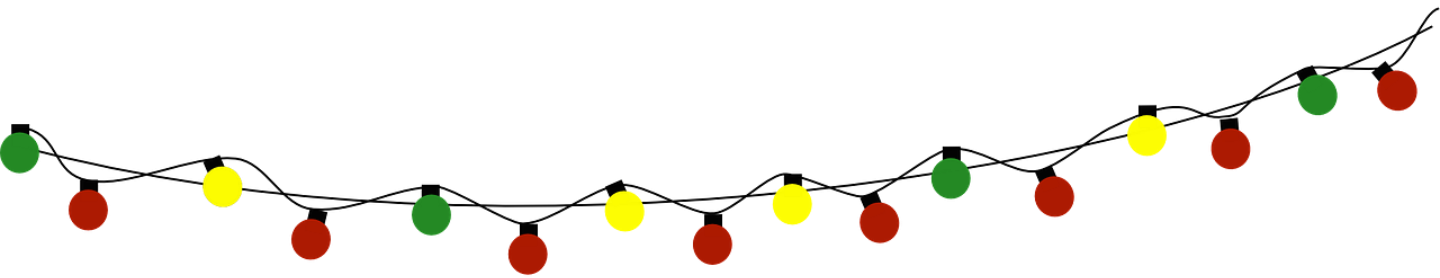




Α' δημοτικού

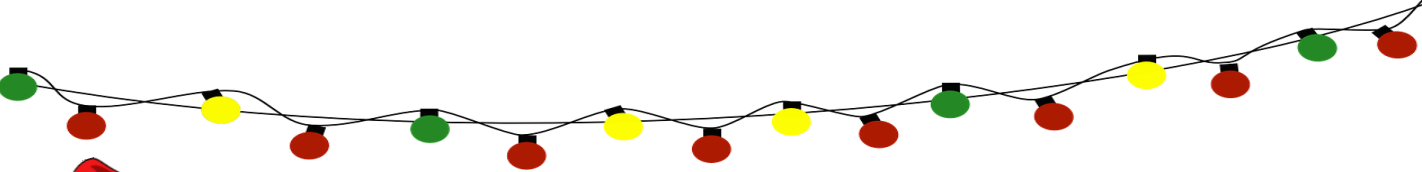
**Τα προβλήματα
του
Άη Βασίλη**

www.des-to-alliws.gr



**Ο Άη Βασίλης αντιμετωπίζει
κάποια προβλήματα καθώς τα
Χριστούγεννα πλησιάζουν και
θα ήθελε την βοήθειά σου.
Ξεκινάμε;**





Η Μαρία έχει 6 κούκλες και θα της πάω δώρο άλλες 2. Πόσες θα έχει μετά;

A large rectangular area with a red dashed border, intended for the student to write the answer to the first question.




Ο Γιώργος και η οικογένειά του ξεκίνησαν να στολίζουν το δέντρο. Στην αρχή έβαλαν 4 μπάλες και έπειτα άλλες 3. Πόσες έβαλαν συνολικά;

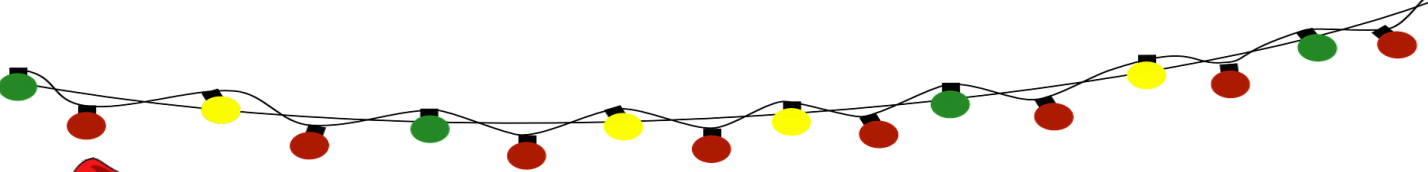
A large rectangular area with a red dashed border, intended for the student to write the answer to the second question.



Η Κ.Ευγενία έβαλε στην τάξη αυτό το δέντρο. Πόσα στολίδια έχει;

A large rectangular area with a red dashed border, intended for the student to write the answer to the third question.





Μέσα στο ένα κουτί υπάρχουν 3 παιχνίδια και μέσα στο άλλο 4 παιχνίδια;

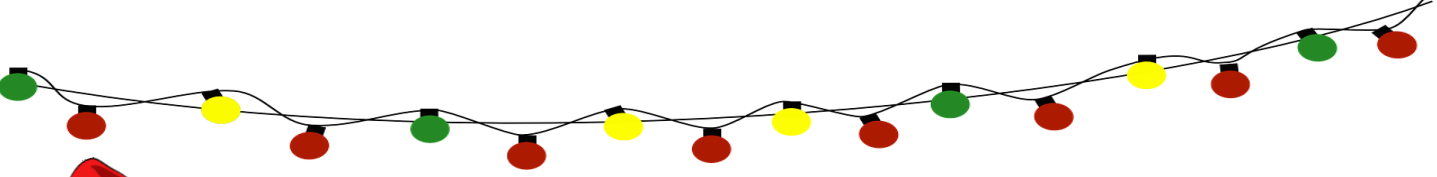


Το έλκηθρο είχε πάνω 20 δώρα, έδωσα όμως τα 5. Πόσα έχει τώρα;



Ο Παύλος και ο αδερφός του αποφάσισαν να πάρουν ένα δώρο στην μαμά τους. Ο Παύλος έχει 8 ευρώ και ο αδερφός του 11 ευρώ. Πόσα έχουν μαζί;






Ο παππούς έδωσε στην Αλεξάνδρα 10 ευρώ και η γιαγιά 7 ευρώ. Πόσα χρήματα έχει;

A large rectangular area with a red dashed border, intended for the student to write the answer to problem 7.



Η μητέρα είχε ετοιμάσει 20 κουλουράκια αλλά ο Πέτρος έφαγε τα 4. Πόσα έμειναν;

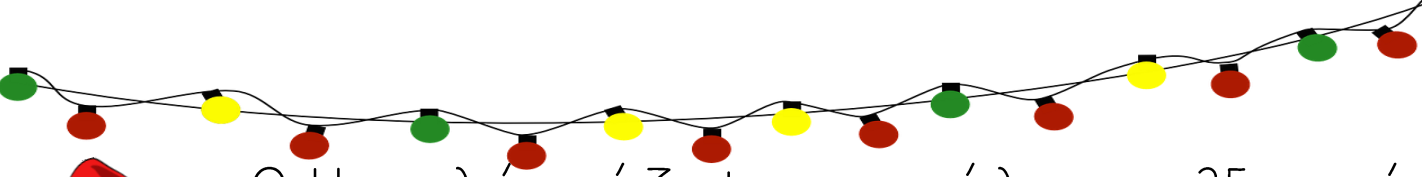
A large rectangular area with a red dashed border, intended for the student to write the answer to problem 8.



Κόψαμε την βασιλόπιτα σε 6 κομμάτια. Τα μισά τα έφαγε ο μπαμπάς και τα υπόλοιπα τα παιδιά. Πόσα έφαγε ο μπαμπάς και πόσα τα παιδιά;

A large rectangular area with a red dashed border, intended for the student to write the answer to problem 9.






Ο Ηρακλής μάζεψε στα κάλαντα 25 ευρώ
ενώ η Ελπίδα 18 ευρώ. Ποιος μάζεψε
περισσότερα;

A large rectangular area with a red dashed border, intended for the student to write their answer to question 10.



Ο ένας τάρανδος έχει 4 πόδια. Οι δύο
τάρανδοι πόσα έχουν;



A large rectangular area with a red dashed border, intended for the student to write their answer to question 11.



Το στεφάνι μας έχει 16 κόκκινα λουλούδια
αν βγάλουμε τα 6. Πόσα θα μείνουν;

A large rectangular area with a red dashed border, intended for the student to write their answer to question 12.

